

Themenbereich	
Stetigkeit, Differenzierbarkeit	
Ziele	vorhandene Ausarbeitungen
<ul style="list-style-type: none"> Vertiefung der Begriffe Stetigkeit und Differenzierbarkeit. 	TI-92 (B1310a)
Analoge Aufgabenstellungen – Übungsbeispiele	B1311 bis B1314
Lehrplanbezug (Österreich):	7. Klasse
Quelle: Karl Weinstich, nach Maria Koth, Mathematik - 100 Maturaaufgaben mit vollständigen Lösungen, htp Wien 1993	

Trassierung 1

Angabe:

Gegeben ist die Funktion $f(x) = \begin{cases} -3: & x < -1 \\ f_2(x): & -1 \leq x \leq 2 \\ -2x+7: & x > 2 \end{cases}$.

Fragen:

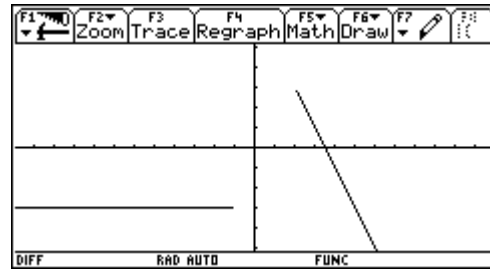
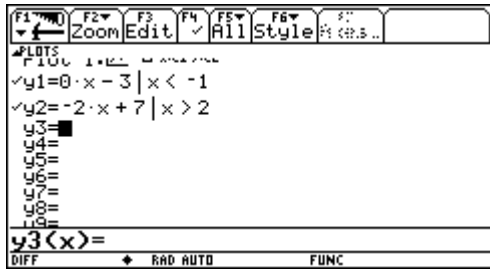
Ermittle die Funktionsgleichung für f_2 so, dass $f(x)$ auf ganz \mathbb{R} definiert ist und dass

- die Funktion f auf ganz \mathbb{R} stetig ist,
- die Funktion f an den Stellen -1 und 2 unstetig ist, aber der Grenzwert von f an diesen Stellen existiert,
- der Grenzwert der Funktion f an den Stellen -1 und 2 nicht existiert,
- die Funktion f auf ganz \mathbb{R} differenzierbar ist.

Gib jeweils ein Beispiel für die Funktionsgleichung einer geeigneten Funktion f_2 an und zeichne jeweils den Graphen der dadurch definierten Funktion f (die auf ganz \mathbb{R} definiert sein soll) ins Heft.

Ausarbeitung (System: TI-92+)

Man verschafft sich zunächst einen Überblick, indem man die Funktion am TI-92 darstellt:



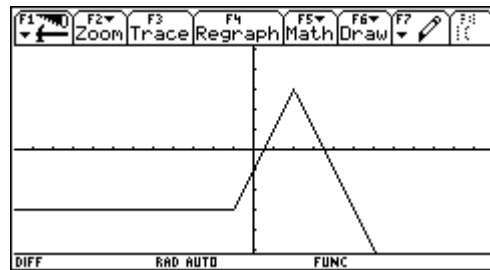
BEACHTE: Um konstante Funktionen auf einen Definitionsbereich einschränken zu können, muss auch die Variable im Funktionsterm vorkommen; d.h., statt $y_2(x) = 2$ muss an $y_2(x) = 0 \cdot x + 2$ eingeben!

ad a)

Die einfachste stetige Funktion ist eine lineare Funktion, die folgende Bedingungen erfüllt: $f_2(-1) = f_1(-1) = -3$ und $f_2(2) = f_3(2) = 3 \Rightarrow$



$$f_2(x) = 2x - 1 \quad (-1 \leq x \leq 2)$$

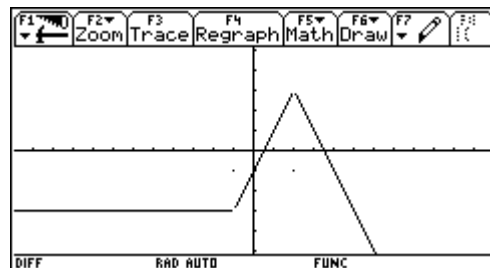


ad b)

Definiert man f_2 wie in Beispiel a) und wählt für die Stellen -1 und 2 solche Werte, dass dadurch Lücken im Graph entstehen, erhält man die geforderte Funktion \Rightarrow

$$f_2(x) = \begin{cases} -1 & : x = -1 \\ 2x - 1 & : -1 < x < 2 \\ -1 & : x = 2 \end{cases}$$

Durch diese Definition existieren zwar die Grenzwerte an den Stellen -1 und 2 , sie stimmen aber mit den Funktionswerten nicht überein.

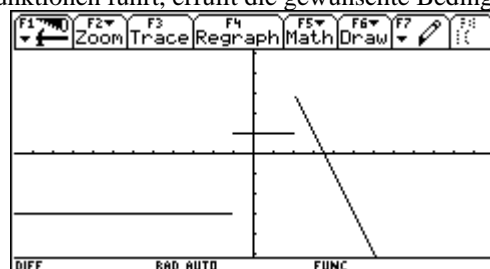


ad c)

Eine beliebige lineare Funktion, die nicht zu den gegebenen Funktionen führt, erfüllt die gewünschte Bedingung \Rightarrow

$$f_2(x) = 1 \quad (-1 \leq x \leq 2)$$

Da durch diese Definition Sprungstellen entstehen existiert der Grenzwert in den Stellen -2 und 1 nicht.

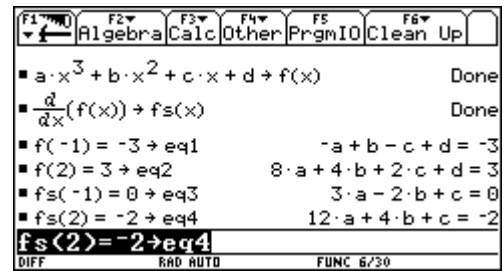


ad d)

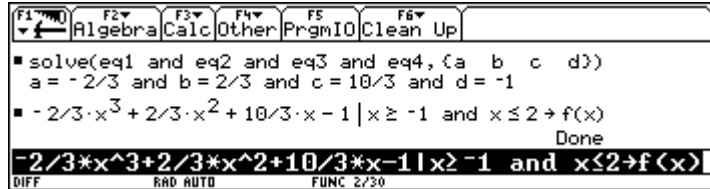
Gesucht ist eine differenzierbare Funktion, die an der Stelle $x = -1$ den gleichen Funktionswert und die gleiche 1. Ableitung wie $f_1(x) = -3$ und an der Stelle $x = 2$ den gleichen Funktionswert und die gleiche 1. Ableitung wie $f_3(x) = -2x + 7$ hat. Die gesuchte Funktion muss also bei $x = -1$ ein lokales Minimum besitzen, danach monoton wachsend und im Wert $x = 2$ monoton fallend sein. Die einfachste Funktion, die dies leistet, ist eine Polynomfunktion 3. Grades. $\Rightarrow f_2(x) = ax^3 + bx^2 + cx + d$

Gleichungssystem ermitteln:

$$\left. \begin{array}{l} f_2(-1) = -3 \\ f_2(2) = 3 \\ f_2'(-1) = 0 \\ f_2'(2) = -2 \end{array} \right\} \Rightarrow \begin{array}{l} -a + b - c + d = -3 \\ 8a + 4b + 2c + d = 3 \\ -a + b - c + d = 0 \\ 12a + 4b + c = 2 \end{array}$$



Lösungen berechnen:



$$\Rightarrow f_2(x) = \frac{1}{3}(-2x^3 + 2x^2 + 10x - 3) \quad (-1 \leq x \leq 2)$$

Kontrolle:

